


Mae gan Sam gi ac mae gan Lucy gath. Sawl coes sydd gan y ddau anifail gyda'i gilydd?

1.

Bydd rhaid i mi \_\_\_\_\_

Byddaf yn defnyddio \_\_\_\_\_ i'm helpu

Yr ateb ydy \_\_\_\_\_




2.

Amser cinio hoffai Rhian brynu afal am 4 ceiniog a diod am 6 cheiniog. Faint o arian fydd arni hi ei angen?

Bydd rhaid i mi \_\_\_\_\_

Byddaf yn defnyddio \_\_\_\_\_ i'm helpu

Yr ateb ydy \_\_\_\_\_



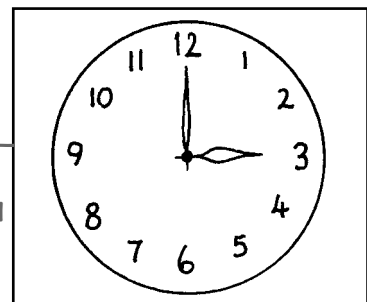
3.

Mae clwb pêl droed Liz yn para am 1 awr. Os yw'r clwb yn dechrau am 3 o'r gloch, faint o'r gloch mae'n gorffen?

Bydd rhaid i mi \_\_\_\_\_

Byddaf yn defnyddio \_\_\_\_\_ i'm helpu

Yr ateb ydy \_\_\_\_\_




4.

Mae bwced Gwion yn dal 5 llond jwg o ddŵr ac mae bwced Dewi yn dal 9. Faint yn fwy o ddŵr sydd gan Dewi?

Bydd rhaid i mi \_\_\_\_\_

Byddaf yn defnyddio \_\_\_\_\_ i'm helpu

Yr ateb ydy \_\_\_\_\_




1. Mae gan Sam gi, mae gan Lucy gath ac mae gan Jake lygoden. Sawl coes sydd gan yr anifeiliaid gyda'i gilydd?

Bydd rhaid i mi \_\_\_\_\_

Byddaf yn defnyddio \_\_\_\_\_ i'm helpu

Yr ateb ydy \_\_\_\_\_




2. Amser cinio hoffai Rhian brynu afal am 8 ceiniog a diod am 9 ceiniog. Faint o arian fydd arni hi ei angen?

Bydd rhaid i mi \_\_\_\_\_

Byddaf yn defnyddio \_\_\_\_\_ i'm helpu

Yr ateb ydy \_\_\_\_\_

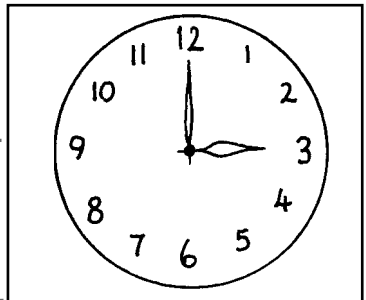


3. Mae clwb pêl droed Liz yn para am 2 awr. Os yw'r clwb yn dechrau am 3 o'r gloch, faint o'r gloch mae'n gorffen?

Bydd rhaid i mi \_\_\_\_\_

Byddaf yn defnyddio \_\_\_\_\_ i'm helpu

Yr ateb ydy \_\_\_\_\_




4. Mae bwced Gwion yn dal 8 llond jwg o ddŵr ac mae bwced Dewi yn dal 12. Faint yn fwy o ddŵr sydd gan Dewi?

Bydd rhaid i mi \_\_\_\_\_

Byddaf yn defnyddio \_\_\_\_\_ i'm helpu

Yr ateb ydy \_\_\_\_\_




1. Mae gan Sam gi, mae gan Lucy ddwy gath ac mae gan Jake ddwy lygoden. Sawl coes sydd gan yr anifeiliaid gyda'i gilydd?

Bydd rhaid i mi \_\_\_\_\_

Byddaf yn defnyddio \_\_\_\_\_ i'm helpu

Yr ateb ydy \_\_\_\_\_




2. Amser cinio hoffai Rhian brynu afal am 11 ceiniog a diod am 13 ceiniog. Faint o arian fydd arni hi ei angen?

Bydd rhaid i mi \_\_\_\_\_

Byddaf yn defnyddio \_\_\_\_\_ i'm helpu

Yr ateb ydy \_\_\_\_\_

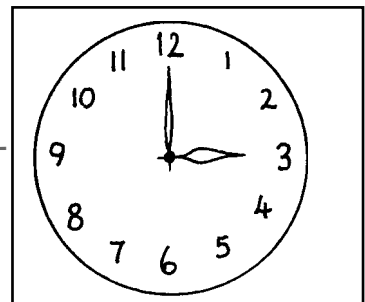


3. Mae clwb pêl droed Liz yn para am 4 awr. Os yw'r clwb yn dechrau am 3 o'r gloch, faint o'r gloch mae'n gorffen?

Bydd rhaid i mi \_\_\_\_\_

Byddaf yn defnyddio \_\_\_\_\_ i'm helpu

Yr ateb ydy \_\_\_\_\_



4. Mae bwced Gwion yn dal 12 llond jwg o ddŵr ac mae bwced Dewi yn dal 16. Faint yn fwy o ddŵr sydd gan Dewi?

Bydd rhaid i mi \_\_\_\_\_

Byddaf yn defnyddio \_\_\_\_\_ i'm helpu

Yr ateb ydy \_\_\_\_\_

